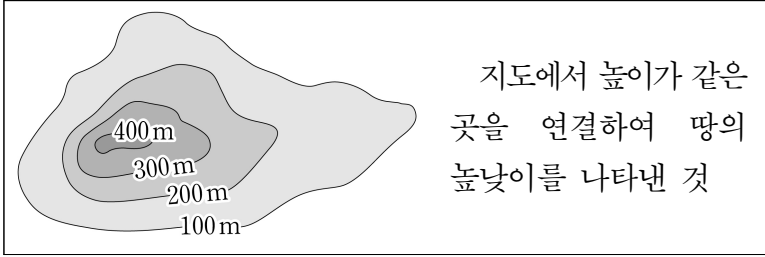


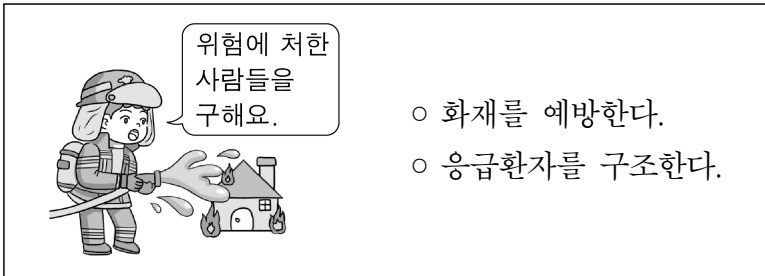
# 제 1 교시 사회

1. 다음에서 설명하는 것은?



- ① 등고선                      ② 방위표
- ③ 중심지                      ④ 지하철 노선도

2. 다음에서 설명하는 공공 기관은?




- ① 교육청    ② 도서관    ③ 소방서    ④ 우체국

3. 소비 활동의 모습으로 적절하지 않은 것은?

- ① 빵집에서 빵 사먹기
- ② 시장에서 고기 사기
- ③ 공장에서 자동차 만들기
- ④ 미용실에서 머리 손질 받기

4. 그림에 나타난 차별의 종류로 가장 적절한 것은?



- ① 나이    ② 언어    ③ 장애    ④ 종교

5. 다음 중 폭염의 피해를 줄이기 위한 방법으로 가장 적절한 것은?

- ① 동상에 대비한다.
- ② 제설 장비를 준비한다.
- ③ 수분을 충분히 섭취한다.
- ④ 외출할 때 마스크를 쓴다.

6. 우리 국토에 대한 설명으로 옳지 않은 것은?



- ① 삼면이 바다와 맞닿아 있다.
- ② 한라산은 우리나라 북쪽 끝에 있다.
- ③ 황해는 우리나라 서쪽에 있는 바다이다.
- ④ 독도는 우리나라 영토에서 가장 동쪽에 있다.

7. 다음 중 인권 침해 사례는?


- ① 예절을 지켜 대화하기
- ② 다른 사람의 일기 몰래 보기
- ③ 사회적 약자를 위한 배려석 만들기
- ④ 시각 장애인을 위한 점자 블록 설치하기

8. 다음에서 설명하는 권리는?

○ 국가의 정치 의사 형성 과정에 참여할 수 있는 권리이다.  
 ○ 모든 국민은 법률이 정하는 바에 의하여 선거권을 가진다. (헌법 제24조)

- ① 자유권    ② 참정권    ③ 청구권    ④ 평등권

9. 다음 문화유산을 남긴 나라는?




- ① 고조선    ② 백제    ③ 신라    ④ 발해

10. 다음 중 세종 대에 이루어진 일은?

- ① 삼국 통일                      ② 훈민정음 창제
- ③ 한산도 대첩                      ④ 3·1 운동

11. 다음에서 설명하는 조선 후기 문화는?



- 당시 사람들의 생활 모습을 담고 있다.
- 대표적인 화가로 김홍도, 신윤복이 있다.

- ① 탈놀이    ② 판소리    ③ 풍속화    ④ 한글 소설

12. 다음에서 설명하는 인물은?

- 고종의 아버지이다.
- 한양과 전국 각지에 척화비를 세웠다.
- 서원을 일부만 남기고 모두 정리했다.

- ① 김옥균                      ② 전봉준  
③ 정약용                      ④ 홍선 대원군

13. ㉠에 들어갈 사건으로 적절한 것은?

㉠의 전개 과정과 결과

- 배경: 전두환 정부는 민주주의를 요구하는 사람들을 탄압함.
- 과정: 대통령 직선제를 요구하며 시위를 벌임.
- 결과: 대통령 직선제를 포함한 민주화 요구를 받아 들인다는 6·29 민주화 선언을 함.

- ① 갑신정변                      ② 동학 농민 운동  
③ 4·19 혁명                      ④ 6월 민주 항쟁

14. 다음에서 설명하는 민주주의를 실천하는 태도는?

사실이나 의견의 옳고 그름을 따져 살펴보는 태도

- ① 관용                              ② 비판적 태도  
③ 양보와 타협                      ④ 다수결의 원칙

15. 다음에서 설명하는 것은?

- 법에 따라 나라의 살림을 맡아 한다.
- 조직에는 대통령을 중심으로 국무총리와 여러 개의 부, 처, 청 그리고 위원회가 있다.

- ① 국회    ② 법원    ③ 정부    ④ 헌법 재판소

16. 다음 중 사회적 약자를 위한 대책으로 가장 적절한 것은?

- ① 환경 보호 운동  
② 에너지 절약 운동  
③ 기업들의 친환경 제품 판매  
④ 정부의 생계비, 양육비, 학비 지원

17. 다음에서 설명하는 것은?

- 우리나라와 인접한 바다이다.
- 아시아, 오세아니아, 북아메리카, 남아메리카 대륙 사이에 있다.

- ① 남극해                              ② 대서양  
③ 북극해                              ④ 태평양

18. ㉠에 해당하는 나라는?

㉠의 특징

- 동남아시아에 위치한다.
- 기후는 대체로 덥고 습한 편이다.
- 쌀을 많이 수출한다.

- ① 베트남                              ② 탄자니아  
③ 아르헨티나                              ④ 사우디아라비아

19. 빈곤과 기아 문제 해결을 위한 노력으로 옳지 않은 것은?

- ① 교육 지원                              ② 구호 활동  
③ 모금 활동                              ④ 핵무기 개발

20. 다음에서 설명하는 것은?

교육, 과학, 문화 분야 등에서 다양한 국제 교류를 하며 국제 평화를 추구하는 국제기구

- ① 유네스코                              ② 국제 노동 기구  
③ 유엔 난민 기구                              ④ 국제 원자력 기구